

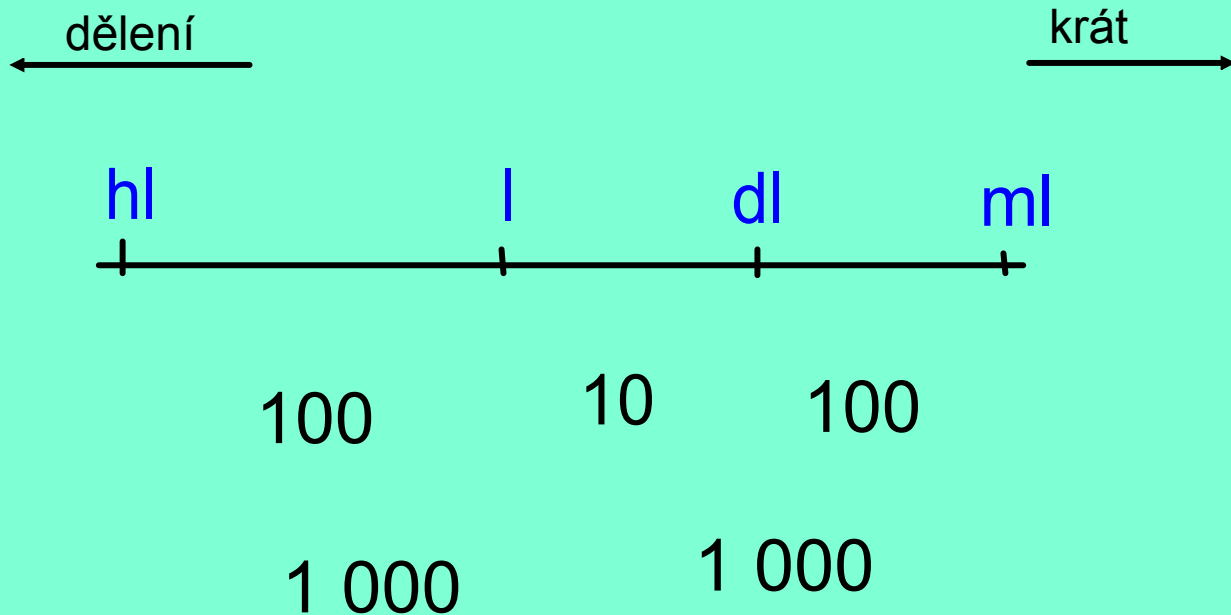


INVESTICE DO ROZVOJE VZDĚLÁVÁNÍ


Základní škola T. G. Masaryka, Studénka, ul. 2. května 500, okres Nový Jičín	
Číslo projektu: CZ.1.07/1.4.00/21.1489	Označení vzdělávacího materiálu: VY_32_INOVACE_MA1A.5.09
Autor: Eva Kutálková	Vzdělávací oblast: Matematika a její aplikace
Předmět: Matematika a její aplikace	Ročník: pátý
Téma hodiny: Převody jednotek objemu	
Využití vzdělávacího materiálu: Orientace v jednotkách objemu při nakupování	
Ověření ve výuce:	
Datum: 9.2.2012	Třída: 5

JEDNOTKY OBJEMU

ZAPAMATUJ SI!



Kolik hrníčků nalejeme do
jednoho kbelíku?




10l




250ml

Kolik kbelíků vody se vejde do
jednoho akvária?

50l



10l



Uspořádej objem vody v kbelících od
nejmenšího po největší (přiřaď čísla)

1 2 3 4 5 6 7 8 9 10











8l

600dl

6 000ml

7dl

20l



2000dl

300l

500ml

5dl

3hl

1 2 3 4 5 6 7 8 9 10

Převod jednotky podle tabulky

l	800		5 000		10 000	
hl		7		40		250

ml		40 000	9 000		3 000	
l	6			20		10

dl	600			30	80	
l		9	20			0



Doplň správná znaménka

> < =



60hl	600l
400dl	40 000ml
3dl 20ml	320ml
50 000l	50 hl
1 000ml	100l
700hl	7 000l
2 000ml	2l

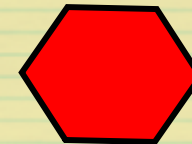


SLOVNÍ ÚLOHY


samostatná práce



1. Auto pana Malého má spotřebu 6l na 100km. Kolik km pan Malý ujel, když spotřeboval 54l nafty?



2. Ve skladu je uloženo 234 litrů oleje v šestilitrových plechovkách. Kolik kusů plechovek je ve skladu?



Použité zdroje :

Aplikace SMART Notebook Version 10.0.631.3 17:15:24 Sep 30 2009