



MINISTERSTVO ŠKOLSTVÍ,  
MLÁDEŽE A TĚLOVÝCHOVY



## INVESTICE DO ROZVOJE VZDĚLÁVÁNÍ

Základní škola T. G. Masaryka, Studénka, ul. 2. května 500, okres Nový Jičín	
Číslo projektu: CZ.1.07/1.4.00/21.1489	Označení vzdělávacího materiálu: VY_32_INOVACE_MA1A.5.19
Autor: Eva Kutálková	Vzdělávací oblast: Matematika a její aplikace
Předmět: Matematika a její aplikace	Ročník: pátý
Téma hodiny: Sčítání a odčítání do milionu	
Využití vzdělávacího materiálu: Opakování učiva. Ověření zvládnutí matematických operací. Samostatná práce	
Ověření ve výuce:	
Datum: 12.3.2012	Třída: 5

# SČÍTÁNÍ A ODCÍTÁNÍ

DO 1 000 000

# Sečti z paměti

SP  
samostatná  
práce

$$630\,000 + 25\,000 = ? \quad 655\,000$$

$$1\,540\,270 + 300\,000 = ? \quad 1\,840\,270$$

$$17\,000\,360 + 2\,600\,000 = ? \quad 19\,600\,360$$

$$351\,000 + 62\,400 = ? \quad 413\,400$$

$$1\,650 + 700 = ? \quad 2\,350$$

$$763\,000 + 37\,000 = ? \quad 800\,000$$

# Odečti z paměti

SP

$$630\ 000 - 70\ 000 = ? \quad 560\ 000$$

$$3\ 540\ 000 - 800\ 000 = ? \quad 2\ 740\ 000$$

$$52\ 700\ 000 - 8\ 300\ 000 = ? \quad 44\ 400\ 000$$

$$985\ 000 - 43\ 000 = ? \quad 942\ 000$$









$$9\ 990 - 700 = ? \quad 9\ 290$$

$$741\ 800 - 37\ 000 = ? \quad 704\ 800$$

## Doplň čísla

SP

o 7 větší a o 7 menší

	2 642	2 635	2 628	
	10 560	10 553	10 546	
	2 800 007	2 800 000	2 799 993	
	1 256 009	1 256 002	1 255 995	

o 100 větší a o 100 menší

	8 560 400	8 560 300	8 560 200	
	190 563	190 463	190 363	
	78 480 002	78 479 902	78 479 802	
	60 100	60 000	59 900	

## Sečti výhodně z paměti

Dvojice

$$7\ 000 + 1\ 850 + 3\ 000 =$$

$$650 + 720 + 350 + 280 =$$

$$970 + 48\ 000 + 42\ 000 =$$

$$2\ 992 + 7\ 985 + 8 + 15 =$$

# Odečti písemně pod sebou

SP

$$\begin{array}{r} 98\ 025\ 506 \\ - 4\ 164\ 198 \\ \hline \end{array}$$

$$\begin{array}{r} 483\ 490 \\ - 173\ 122 \\ \hline \end{array}$$


$$\begin{array}{r} 2\ 065\ 494 \\ - 380\ 526 \\ \hline \end{array}$$

**Kontrola** :Vypočti příklady,pak vyhledej správný výsledek

310 368

1 684 968

93 861 308




## Sečti písemně pod sebou

SP

$$\begin{array}{r} 56\,925\,003 \\ 7\,029\,477 \\ \hline \end{array}$$
$$\begin{array}{r} 602\,359 \\ 258\,147 \\ \hline \end{array}$$
$$\begin{array}{r} 9\,845\,324 \\ 820\,554 \\ \hline \end{array}$$

**Kontrola** :Vypočti příklady,pak vyhledej správný výsledek

860 506



63 954 480




10 665 878





Soutěž ve dvojicích

Hod' kostkami a sečti. Kdo vypočte dříve, získává bod



The image shows a mathematical equation where the numbers are on blue sticky notes. The first sticky note has the number 520, followed by a red plus sign. The second sticky note has the number 660, followed by a red equals sign. The sticky notes have a small white tab at the top left and a yellow arrow pointing right at the bottom right.

$$520 + 660 =$$

## Práce pro skupinu

Roztoč kološtěstí, vyber 2 čísla a odečti menší číslo od většího. Úkol splň písemně do sešitu.



Použité zdroje :

Aplikace SMART Notebook Version 10.0.631.3 17:15:24 Sep 30 2009